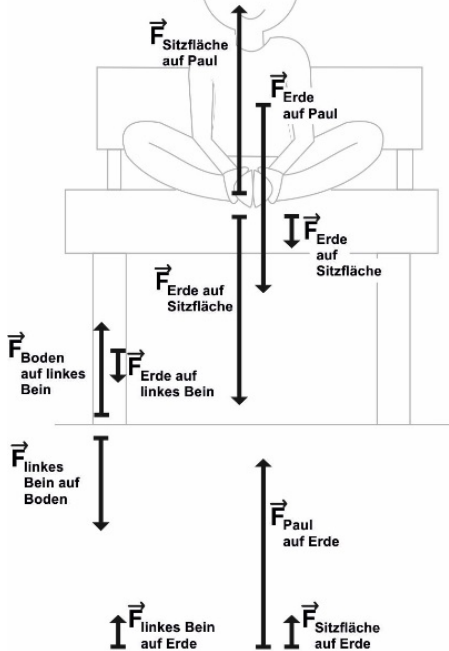


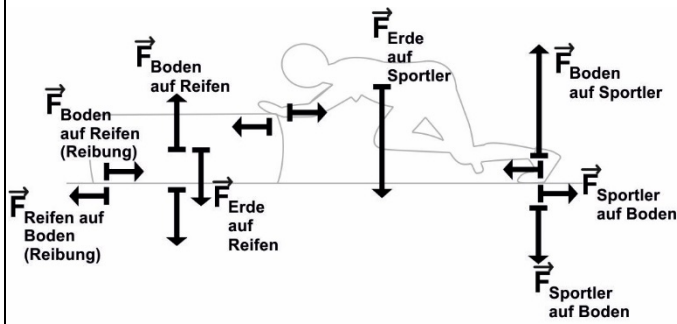
Unterrichtsgruppe

Aufgaben:

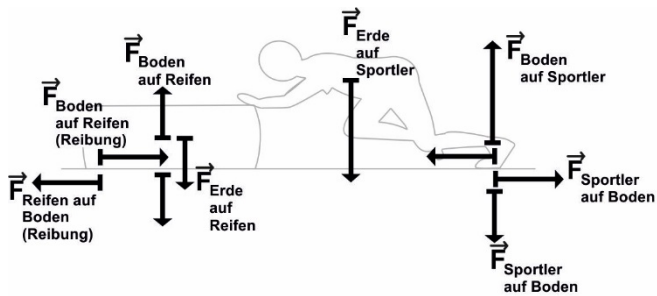
1. Notiert euch Stichpunkte zu den Erklärungen der Expertengruppen.

Pauls Bank			
<p style="text-align: center;">Expertengruppe:</p> 	<p style="text-align: center;">Hier ist Platz für die Bestimmung der resultierenden Kraft</p> <table style="width: 100%; border-collapse: collapse;"> <tr> <td style="width: 50%; border-right: 1px dashed black; padding: 5px; vertical-align: top;"> <p>Paul:</p> </td> <td style="width: 50%; padding: 5px; vertical-align: top;"> <p>Bein:</p> </td> </tr> </table>	<p>Paul:</p>	<p>Bein:</p>
<p>Paul:</p>	<p>Bein:</p>		
<p>Hier ist Platz für Notizen:</p>			

Reifen schieben



Hier ist Platz für die Bestimmung der resultierenden Kraft:

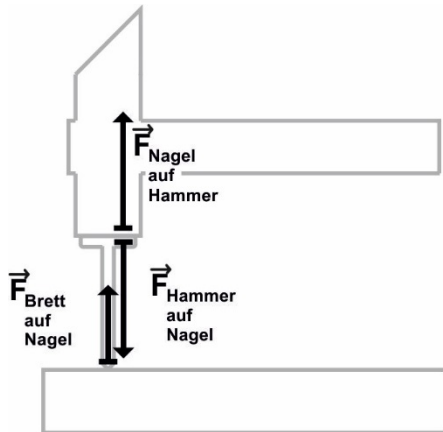


Hier ist Platz für die Bestimmung der resultierenden Kraft:

	Vom Sportler auf Reifen ausgeübte Kraft
Profi	$F \geq 1000 \text{ N}$
Fortgeschrittener	$500 \text{ N} \leq F < 1000 \text{ N}$
Anfänger	$F < 500 \text{ N}$

Hier ist Platz für Notizen:

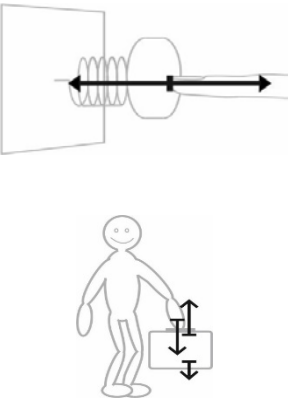
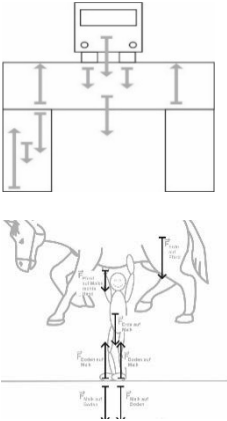
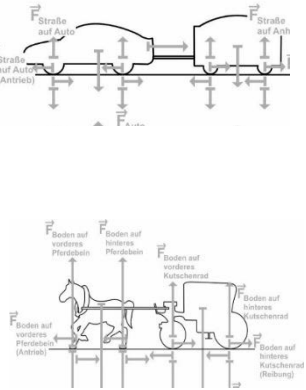
Hammer auf Nagel



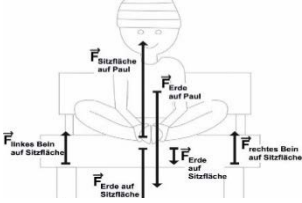
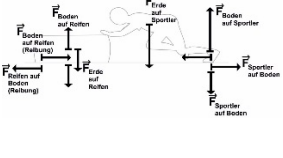
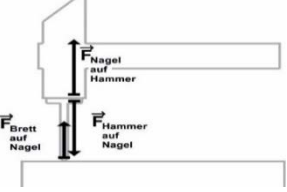
Hier ist Platz für die Bestimmung der resultierenden Kraft:

Hier ist Platz für Notizen:

2. Wir haben im Unterricht 6 Aufgaben zur Umrandungsauswahl besprochen. In der folgenden Übersicht sind diese Beispiele in 3 Stränge aufgeteilt worden:
- a) Begründet die Aufteilung.

	Strang 1	Strang 2	Strang 3
Unterrichtsbeispiele:			
Begründung der Aufteilung:			

- b) Ordnet die Beispiele der Expertengruppen den Strängen zu. Begründet eure Wahl.

Expertengruppe			
Gehört zu Strang:			
Begründung:			